

Técnico de Fomento C – TFC**Economista****Informações Gerais:**

1. Você está recebendo do fiscal de sala o seguinte material:
 - a) o caderno de prova, com o enunciado das 70 (setenta) questões, sem repetição ou falha.
 - b) a folha de repostas.
2. Ao receber a folha de respostas, é obrigação do candidato:
 - a) conferir se seu nome, número de inscrição e cargo escolhido estão corretos;
 - b) ler atentamente as instruções para seu preenchimento;
 - c) assinar a folha de respostas.
3. A folha de respostas será o único documento válido para a correção da prova.
4. O preenchimento da folha de respostas deverá ser feito com a utilização de caneta esferográfica de tinta azul ou preta, sendo de inteira responsabilidade do candidato.
5. Em hipótese alguma haverá substituição da folha de respostas por erro do candidato.
6. As questões da prova são identificadas pelo número que se situa acima do enunciado.
7. O tempo estabelecido para essa prova, incluindo o tempo para a marcação da folha de respostas, é de 4 (quatro) horas.
8. Durante as primeiras duas horas, o candidato não poderá deixar o recinto de realização da prova, salvo por motivo de força maior.
9. O candidato não pode anotar as marcações das questões da prova senão na folha de repostas e no caderno de questões.
10. O candidato somente poderá levar consigo este caderno de questões se permanecer em sala até 30 (trinta) minutos antes do término do horário previsto.



Língua Portuguesa

Jeitinho

O jeitinho não se relaciona com um sentimento revolucionário, pois aqui não há o ânimo de se mudar o *status quo*. O que se busca é obter um rápido favor para si, às escondidas e sem chamar a atenção; por isso, o jeitinho pode ser também definido como "molejo", "jogo de cintura", habilidade de se "dar bem" em uma situação "apertada".

Em sua obra *O Que Faz o Brasil, Brasil?*, o antropólogo Roberto DaMatta compara a postura dos norte-americanos e a dos brasileiros em relação às leis. Explica que a atitude formalista, respeitadora e zelosa dos norte-americanos causa admiração e espanto aos brasileiros, acostumados a violar e a ver violadas as próprias instituições; no entanto, afirma que é ingênuo creditar a postura brasileira apenas à ausência de educação adequada.

O antropólogo prossegue explicando que, diferente das norte-americanas, as instituições brasileiras foram desenhadas para coagir e desarticular o indivíduo. A natureza do Estado é naturalmente coercitiva; porém, no caso brasileiro, é inadequada à realidade individual. Um curioso termo – Belíndia – define precisamente esta situação: leis e impostos da Bélgica, realidade social da Índia.

Ora, incapacitado pelas leis, descaracterizado por uma realidade opressora, o brasileiro buscará utilizar recursos que vençam a dureza da formalidade se quiser obter o que muitas vezes será necessário à sua sobrevivência. Diante de uma autoridade, utilizará termos emocionais, tentará descobrir alguma coisa que possuam em comum - um conhecido, uma cidade da qual gostam, a "terrinha" natal onde passaram a infância - e apelará para um discurso emocional, com a certeza de que a autoridade, sendo exercida por um brasileiro, poderá muito bem se sentir tocada por esse discurso. E muitas vezes conseguirá o que precisa.

Nos Estados Unidos da América, as leis não admitem permissividade alguma e possuem franca influência na esfera dos costumes e da vida privada. Em termos mais populares, diz-se que, lá, ou "pode" ou "não pode". No Brasil, descobre-se que é possível um "pode-e-não-pode". É uma contradição simples: acredita-se que a exceção a ser aberta em nome da cordialidade não constituiria pretexto para outras exceções. Portanto, o jeitinho jamais gera formalidade, e essa jamais sairá ferida após o uso desse atalho.

Ainda de acordo com DaMatta, a informalidade é também exercida por esferas de influência superiores. Quando uma autoridade "maior" vê-se coagida por uma "menor", imediatamente ameaça fazer uso de sua influência; dessa forma, buscará dissuadir a autoridade "menor" de aplicar-lhe uma sanção.

A fórmula típica de tal atitude está contida no golpe conhecido por "carteirada", que se vale da célebre frase "você sabe com quem está falando?". Num exemplo clássico, um promotor público que vê seu carro sendo multado por uma autoridade de trânsito imediatamente fará uso (no caso, abusivo) de sua autoridade: "Você sabe com quem está falando? Eu sou o promotor público!". No entendimento de Roberto DaMatta, de qualquer forma, um "jeitinho" foi dado.

(In: www.wikipedia.org - com adaptações.)

1

De acordo com o texto, é correto afirmar que:

- o jeitinho brasileiro é um comportamento motivado pelo descompasso entre a natureza do Estado e a realidade observada no plano do indivíduo.
- as instituições norte-americanas, bem como as brasileiras, funcionam sem permissividade porque estão em sintonia com os anseios e atitudes do cidadão.
- a falta de educação do brasileiro deve ser atribuída à incapacidade de o indivíduo adequar-se à lei, uma vez que ele se sente desprotegido pelo Estado.
- a famosa "carteirada" constitui uma das manifestações do jeitinho brasileiro e define-se pelo fato de dois poderes simetricamente representados entrarem em tensão.
- nos Estados Unidos da América, as leis influem decisivamente apenas na vida pública do cidadão, ao contrário do que ocorre no Brasil, onde as leis logram mudar comportamentos no plano dos costumes e da vida privada.

2

Com relação à estruturação do texto e dos parágrafos, analise as afirmativas a seguir.

- O primeiro parágrafo introduz o tema, discorrendo sobre a origem histórica do jeitinho.
- A tese, apresentada no segundo parágrafo, encontra-se na frase iniciada por *no entanto*.
- O quarto parágrafo apresenta o argumento central para a sustentação da tese.

Assinale:

- se somente a afirmativa I estiver correta.
- se somente a afirmativa II estiver correta.
- se somente a afirmativa III estiver correta.
- se somente as afirmativas II e III estiverem corretas.
- se todas as afirmativas estiverem corretas.

3

Assinale a alternativa que identifique a composição tipológica do texto "Jeitinho".

- Descritivo, com sequências narrativas.
- Expositivo, com sequências argumentativas.
- Injuntivo, com sequências argumentativas.
- Narrativo, com sequências descritivas.
- Argumentativo, com sequências injuntivas.

4

Analise o fragmento a seguir.

Explica que a atitude formalista, respeitadora e zelosa dos norte-americanos causa admiração e espanto aos brasileiros, acostumados a violar e a ver violadas as próprias instituições.

Assinale a alternativa que apresente as propostas de substituição dos trechos sublinhados nas quais se preserva a correção estabelecida pela norma gramatical.

- Causa-lhe admiração e espanto / a vê-la violadas.
- Causa-os admiração e espanto / a ver-lhes violadas.
- Causa-los admiração e espanto / a ver-lhe violadas.
- Causa-os admiração e espanto / a vê-as violadas.
- Causa-lhes admiração e espanto / a vê-las violadas.

5

A natureza do Estado é naturalmente coercitiva; porém, no caso brasileiro, é inadequada à realidade individual.

A respeito do uso do vocábulo *porém* no fragmento acima, é correto afirmar que se trata de uma conjunção:

- (A) subordinativa que estabelece conexão entre a oração principal e a adverbial concessiva.
- (B) integrante que estabelece conexão entre períodos coordenados com valor de consequência.
- (C) coordenativa que estabelece conexão entre as orações introduzindo oração de valor adversativo.
- (D) integrante que estabelece conexão entre a oração principal e a oração objetiva direta.
- (E) coordenativa que estabelece conexão entre as orações introduzindo oração com valor explicativo.

6

A construção da frase “*tentará descobrir alguma coisa que possuam em comum – um conhecido, uma cidade da qual gostam”*, está correta em relação à regência dos verbos *possuir* e *gostar*.

De acordo com a norma padrão, assinale a alternativa que apresente **erro** de regência.

- (A) Apresentam-se algumas teses a cujas ideias procuro me orientar.
- (B) As características pelas quais um povo se identifica devem ser preservadas.
- (C) Esse é o projeto cujo objetivo principal é a reflexão sobre a brasilidade.
- (D) Eis os melhores poemas nacionalistas de que se tem conhecimento.
- (E) Aquela é a livraria onde foi lançado o romance recorde de vendas.

7

Quanto à correspondência oficial do tipo *memorando*, assinale a afirmativa correta.

- (A) Tem como característica principal a complexidade.
- (B) Diferencia-se do ofício mais pela finalidade do que pela forma.
- (C) Presta-se exclusivamente à comunicação externa.
- (D) Dispensa a identificação do órgão expedidor.
- (E) Deve identificar o destinatário pelo nome completo.

8

Na frase “*é ingênuo creditar a postura brasileira apenas à ausência de educação adequada*” foi corretamente empregado o acento indicativo de crase.

Assinale a alternativa em que o acento *indicativo de crase* está corretamente empregado.

- (A) O memorando refere-se à documentos enviados na semana passada.
- (B) Dirijo-me à Vossa Senhoria para solicitar uma audiência urgente.
- (C) Prefiro montar uma equipe de novatos à trabalhar com pessoas já desestimuladas.
- (D) O antropólogo falará apenas àquele aluno cujo nome consta na lista.
- (E) Quanto à meus funcionários, afirmo que têm horário flexível e são responsáveis.

9

Assinale a alternativa em que a *vírgula* está corretamente empregada.

- (A) O jeitinho, essa instituição tipicamente brasileira pode ser considerado, sem dúvida, um desvio de caráter.
- (B) Apareciam novos problemas, e o funcionário embora competente, nem sempre conseguia resolvê-los.
- (C) Ainda que os níveis de educação estivessem avançando, o sentimento geral, às vezes, era de frustração.
- (D) É claro, que se fôssemos levar a lei ao pé da letra, muitos sofreriam sanções diariamente.
- (E) O tempo não para as transformações sociais são urgentes mas há quem não perceba esse fato, que é evidente.

10

Observando a frase “*buscará dissuadir a autoridade ‘menor’ de aplicar-lhe uma sanção*” (L.46-47), assinale a alternativa em que a substituição da palavra sublinhada mantenha o sentido que se deseja comunicar no texto.

- (A) obrigar.
- (B) desaconselhar.
- (C) persuadir.
- (D) convencer.
- (E) coagir.

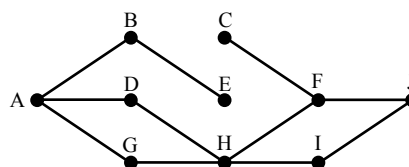
Raciocínio Lógico-matemático

11

Daqui a 15 dias, Márcia fará aniversário. Paula fez aniversário há 8 dias. Júlia fará aniversário 6 dias antes de Márcia.

Se Paula faz aniversário no dia 25 de abril, é correto concluir que:

- (A) hoje é dia 02 de maio.
- (B) hoje é dia 05 de maio.
- (C) Júlia fará aniversário no dia 09 de maio.
- (D) Júlia fará aniversário no dia 12 de maio.
- (E) Márcia fará aniversário no dia 15 de maio.

12

A figura acima ilustra uma construção formada por 10 pontos e 11 segmentos. Cada segmento liga exatamente 2 pontos. Um caminho de A a J é uma sucessão de segmentos interligados que começa no ponto A e termina no ponto J, sem que se passe mais de uma vez por um mesmo ponto. Observe que:

- AD + DH + HF + FJ é um caminho de A até J, formado por 4 segmentos;
- AD + HF + FJ **não** é um caminho de A até J, porque AD e HF não são segmentos interligados.

Assinale a alternativa que indique quantos caminhos existem de A até J.

- (A) 5
- (B) 4
- (C) 3
- (D) 2
- (E) 1

13

Em uma fila, denominamos *extremos* o primeiro e o último elementos e *equidistantes* os elementos que estão à mesma distância dos extremos.

A distância entre dois elementos consecutivos dessa fila é sempre a mesma, quaisquer que sejam esses dois elementos.

Sabendo que essa fila é formada por 52 elementos, o 8º elemento é equidistante ao:

- (A) 44º elemento.
- (B) 45º elemento.
- (C) 46º elemento.
- (D) 47º elemento.
- (E) 48º elemento.

14

Dado um conjunto A, chamamos *subconjunto próprio não vazio* de A a qualquer conjunto que pode ser formado com *parte* dos elementos do conjunto A, desde que:

- algum elemento de A seja escolhido;
- não sejam escolhidos todos os elementos de A.

Sabemos que a quantidade de subconjuntos próprios não vazios de A é 14. A quantidade de elementos de A é igual a:

- (A) 4
- (B) 5
- (C) 6
- (D) 7
- (E) 8

15

Mariano distribuiu 3 lápis, 2 borrachas e 1 caneta pelas 3 gavetas de sua cômoda. Adriana, sua esposa, abriu uma das gavetas e encontrou, dentro dela, 2 lápis e 1 caneta. Sabendo-se que nenhuma das 3 gavetas está vazia, analise as afirmativas a seguir:

- I. É possível garantir que, abrindo-se qualquer outra gaveta, encontra-se pelo menos uma borracha.
- II. É possível garantir que, abrindo-se qualquer outra gaveta, encontra-se um único lápis.
- III. É possível encontrar, em uma das gavetas, mais de uma borracha.

Assinale:

- (A) se somente a afirmativa I estiver correta.
- (B) se somente a afirmativa II estiver correta.
- (C) se somente a afirmativa III estiver correta.
- (D) se somente as afirmativas I e III estiverem corretas.
- (E) se somente as afirmativas II e III estiverem corretas.

16

Certo dia, três amigos fizeram, cada um deles, uma afirmação:

Alúcio: – *Hoje não é terça-feira.*

Benedito: – *Ontem foi domingo.*

Camilo: – *Amanhã será quarta-feira.*

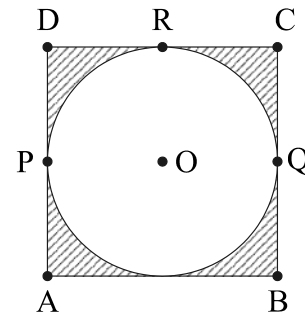
Sabe-se que um deles mentiu e que os outros dois falaram a verdade.

Assinale a alternativa que indique corretamente o dia em que eles fizeram essas afirmações.

- (A) sábado.
- (B) domingo.
- (C) segunda-feira.
- (D) terça-feira.
- (E) quarta-feira.

17

Uma circunferência de centro em O está inscrita em um quadrado de vértices A, B, C e D, como ilustrado. P, Q e R são pontos em que a circunferência toca o quadrado.



Com relação à figura, analise as afirmativas a seguir:

- I. A área interior ao quadrado e exterior à circunferência é menor do que a metade da área total do quadrado.
- II. A distância de A até O é menor do que a metade da medida do lado do quadrado.
- III. O percurso PRQ, quando feito por cima da circunferência, é mais curto do que o feito por sobre os lados do quadrado.

Assinale:

- (A) se somente a afirmativa I estiver correta.
- (B) se somente a afirmativa II estiver correta.
- (C) se somente a afirmativa III estiver correta.
- (D) se somente as afirmativas I e III estiverem corretas.
- (E) se somente as afirmativas II e III estiverem corretas.

18

Um número N acrescido de 20% vale 36, o mesmo que um número P reduzido de 10%. A soma de N e P é:

- (A) 60
- (B) 65
- (C) 70
- (D) 75
- (E) 80

19

Um dado é dito "comum" quando faces opostas somam sete. Deste modo, num dado comum, o 1 opõe-se ao 6, o 2 opõe-se ao 5 e o 3 opõe-se ao 4.

Lançando-se duas vezes seguidas um mesmo dado comum, os resultados obtidos são descritos por um par ordenado (a,b), em que a é o resultado obtido no 1º lançamento e b, o resultado obtido no 2º lançamento.

Assinale a alternativa que indique, corretamente, quantos pares ordenados diferentes podem ser obtidos de modo que a soma dos resultados seja sempre igual a 8.

- (A) 2
- (B) 3
- (C) 4
- (D) 5
- (E) 6

20

Ao caminhar, Márcia e Paula dão sempre passos uniformes. O passo de Márcia tem o mesmo tamanho do de Paula. Mas, enquanto Paula dá cinco passos, Márcia, no mesmo tempo, dá três passos.

No início da caminhada, Márcia estava 20 passos à frente de Paula. Se elas caminharem sem parar, Paula, para alcançar Márcia, deverá dar o seguinte número de passos:

- (A) 20
- (B) 25
- (C) 30
- (D) 40
- (E) 50

Noções de Informática











21

A conexão de dispositivos de entrada e/ou saída de dados e consequente configuração em *notebooks* e microcomputadores do tipo desktop, é realizada por meio da utilização de conectores específicos.

A impressora Multifuncional ilustrada na figura a seguir, utiliza conectores USB tipo A do lado do microcomputador e USB do tipo B do lado da impressora.



As imagens para esses conectores são, respectivamente:

- (A)  e  (B)  e 
- (C)  e  (D)  e 
- (E)  e 

22

A figura a seguir exemplifica o uso da janela do *Windows Explorer* no sistema operacional *Windows 7 BR Ultimate*, de forma semelhante ao que acontece com outros sistemas da linha *Windows*.



Um usuário deseja selecionar todos os arquivos e pastas em Documentos. Para isso, ele deve marcar a pasta "Documentos" e pressionar, simultaneamente, as teclas:

- (A) Ctrl e A
(B) Alt e A
(C) Ctrl e S
(D) Alt e T
(E) Ctrl e T

23

Nas distribuições *Linux*, as principais bibliotecas de sistema e os arquivos de configuração e *scripts* de inicialização ficam armazenados nos seguintes diretórios:

- (A) /bib e /cfg
(B) / bib e /etc
(C) /lib e /scr
(D) /lib e /etc
(E) /lib e /cfg

24

BROffice.org 3.1 é um pacote integrado no contexto do *software livre* para a edição de textos, planilhas, apresentações, gráficos e banco de dados, dentre outros recursos, podendo ser empregado nas áreas administrativa, educacional e financeira.

Além do *Writer* como processador de textos, o *Calc* como *software* para manipulação de planilhas e *Impress* como programa para apresentações, o *BROffice.org* 3.1 também oferece *softwares* para:

- I. gerenciar bancos de dados, criar consultas e relatórios e rastrear e gerenciar informações.
- II. criar e editar desenhos, fluxogramas e logotipos.
- III. criar e ditar fórmulas científicas e equações.

Os *softwares* que atendem aos requisitos indicados nas afirmativas I, II e III são, respectivamente:

- (A) *Base*, *Flow* e *Math*.
(B) *Base*, *Draw* e *Math*.
(C) *dBase*, *Draw* e *Equation*.
(D) *dBase*, *Design* e *Mapper*.
(E) *Clipper*, *Flow* e *Equation*.

25

Observe o texto a seguir, referente à Agência de Fomento do Estado de Santa Catarina S.A – BADESC, elaborado no *Word 2007 BR*.

A Agência de Fomento do Estado de Santa Catarina S.A. - BADESC - sociedade de economia mista, de capital autorizado, criada pela Lei nº 4.950, de 11/11/1973 e instalada oficialmente em 01/08/1975, com o objetivo de promover o desenvolvimento econômico e social do Estado de Santa Catarina, mediante a prática da aplicação de recursos financeiros no âmbito de sua competência, definida pela Legislação Federal pertinente.



A partir da Lei nº 10.917 de 15 de setembro de 1998, oficialmente instalada em ata do Conselho de Administração no dia 19 de janeiro de 1999, foi transformada de "banco de desenvolvimento" em "agência de fomento", nos termos da Resolução 2828/98, do Banco Central do Brasil.

Assinale a alternativa que indique, corretamente, os recursos aplicados no texto.

- (A) capitular / alinhamento equidistante / gótico / *ClipArt*
(B) mesclar / alinhamento equidistante / itálico / *WordArt*
(C) capitular / alinhamento justificado / itálico / *WordArt*
(D) mesclar / alinhamento equidistante / gótico / *WordArt*
(E) capitular / alinhamento justificado / gótico / *ClipArt*

26

As planilhas BADESC11 e BADESC22 foram criadas no Excel 2007 BR. Na BADESC11, em D5 foi inserida uma expressão para determinar a soma entre os números contidos nas células A3 e C3 e, em D7 a função =MOD(D5;8).

Para finalizar, foi inserida uma fórmula para transportar o conteúdo de D7 da planilha BADESC11 para a célula D3 na planilha BADESC22.

	A	B	C	D
1	Planilha BADESC11			
2				
3	3	11	19	37
4				
5			Soma =	22
6				
7			Função MOD ...	6
8				

e

	A	B	C	D
1	Planilha BADESC22			
2				
3			Transporte de BADESC11 =	6
4				

Nessas condições, as expressões inseridas nas células D5 de BADESC11 e D3 de BADESC22, são, respectivamente:

- (A) =SOMA(A3;D3) e =BADESC11&D7
 (B) =SOMA(A3;C3) e =BADESC11!D7
 (C) =SOMA(A3:D3) e =BADESC11% D7
 (D) =SOMA(A3:D3) e =BADESC11!D7
 (E) =SOMA(A3;D3) e =BADESC11!D7

27

Um usuário da Internet está navegando por meio do *browser Mozilla Firefox 3.6* e tem a possibilidade de usar ícones ou atalhos de teclado nessa atividade.

Assinale a alternativa que indique o atalho de teclado e seu significado correto.

- (A) Ctrl + C / mostrar código-fonte em nova janela.
 (B) Ctrl + F / adicionar página a favoritos.
 (C) Ctrl + E / exibir página em tela inteira.
 (D) Ctrl + S / localizar *string* na página.
 (E) Ctrl + T / abrir nova aba.

28

Existem, pelo menos, duas maneiras de se gerenciar o acesso às mensagens de correio eletrônico: a primeira, por meio de um serviço embutido num *site*, como por exemplo, o Gmail; e a segunda, por meio do emprego de *software* específico direcionado para o gerenciamento de *e-mails*.

São exemplos desse tipo de *software*:

- (A) o *Microsoft Outlook* e o *Mozilla Thunderbird*.
 (B) o *Mozilla Thunderbird* e o *Google Safari*.
 (C) o *Netscape Flash* e o *Microsoft Outlook*.
 (D) o *Mac Chrome* e o *Netscape Flash*.
 (E) o *Google Safari* e o *Mac Chrome*.

29

A respeito das características do *software* livre, analise as afirmativas a seguir.

- I. É disponibilizado com a permissão para qualquer um usá-lo, copiá-lo, e distribuí-lo, seja na sua forma original ou com modificações, seja gratuitamente ou com custo.
- II. É gratuito com a permissão para qualquer um usá-lo ou copiá-lo, exclusivamente na sua forma original, não podendo ser modificado.
- III. É *freeware* disponível com a permissão para qualquer pessoa usá-lo e modificá-lo, não podendo ser copiado ou distribuído.

Assinale:

- (A) se somente a afirmativa I estiver correta.
 (B) se somente as afirmativas I e II estiverem corretas.
 (C) se somente as afirmativas I e III estiverem corretas.
 (D) se somente as afirmativas II e III estiverem corretas.
 (E) se todas as afirmativas estiverem corretas.

30

Observe as figuras a seguir:



Figura 1



Figura 2

O conector ilustrado na figura 1 e o cabo ilustrado na figura 2 são empregados na implementação de redes de computadores padrão Ethernet e que normalmente acessam a Internet.

Esse conector é conhecido pela sigla:

- (A) PCI-11
 (B) RG-58
 (C) RJ-45
 (D) DDR-3
 (E) SATA-2

Conhecimentos Específicos**31**

Com relação ao conceito de *estrutura a termo da taxa de juros*, analise as afirmativas a seguir.

- I. A estrutura a termo da taxa de juros estabelece a relação entre as taxas de juros de curto e longo prazos.
- II. Para que a estrutura a termo da taxa de juros apresente uma inclinação constante, as taxas de curto e de longo prazo devem ser iguais.
- III. Uma estrutura a termo da taxa de juros, com inclinação negativa, significa que a taxa de juros real da economia é negativa.

Assinale:

- (A) se somente as afirmativas I e II estiverem corretas.
 (B) se somente as afirmativas I e III estiverem corretas.
 (C) se somente a afirmativa I estiver correta.
 (D) se somente as afirmativas II e III estiverem corretas.
 (E) se todas as afirmativas estiverem corretas.

32

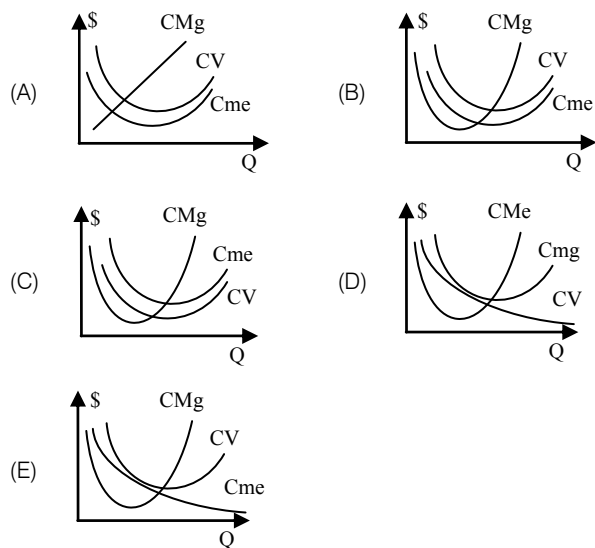
A empresa Lando fabrica controles. Cada unidade produzida de controle apresenta um custo variável unitário de R\$ 2,00 e é vendida por R\$ 4,00. Os custos fixos da empresa totalizam R\$ 50.000,00.

Se a empresa exigir uma lucratividade de 50% dos custos fixos, o ponto de equilíbrio econômico da empresa é:

- (A) R\$ 18.750,00
- (B) R\$ 25.000,00
- (C) R\$ 37.500,00
- (D) R\$ 50.000,00
- (E) R\$ 75.000,00

33

Segundo a *teoria dos custos de produção de curto prazo*, assinale a alternativa que indique o gráfico que melhor representa a relação entre as curvas de custo marginal (Cmg), custo variável médio (CV) e custo médio (Cme).



34

Com relação aos *efeitos das políticas fiscal, monetária e cambial* na economia, analise as afirmativas a seguir.

- I. Uma política monetária expansionista resulta em desvalorização cambial e no aumento da relação entre o montante da dívida pública e o PIB.
- II. Uma política fiscal contracionista diminui a relação entre o montante da dívida pública e o PIB e também ajuda no combate à inflação.
- III. Uma política de desvalorização cambial gera aumento nos índices de inflação e no nível de atividade econômica.

Assinale:

- (A) se somente as afirmativas I e II estiverem corretas.
- (B) se somente as afirmativas I e III estiverem corretas.
- (C) se somente a afirmativa III estiver correta.
- (D) se somente as afirmativas II e III estiverem corretas.
- (E) se todas as afirmativas estiverem corretas.

35

Um investidor deseja depositar uma determinada quantia em um banco para ter o direito de retirar R\$ 10.000,00 no prazo de um ano e mais R\$ 10.000,00 no prazo de quatro anos.

Sabendo-se que o banco remunera seus depósitos com uma taxa de juros simples de 6,25% ao trimestre, o menor valor presente a ser depositado por esse investidor é:

- (A) R\$ 6.667,66.
- (B) R\$ 10.000,00.
- (C) R\$ 13.000,00.
- (D) R\$ 14.535,32.
- (E) R\$ 30.250,00.

36

A relação entre dívida pública e PIB no Brasil apresenta períodos de aumento e períodos de queda.

As causas do aumento da relação dívida pública / PIB são:

- (A) a política fiscal contracionista, a esterelização da entrada de dólares e o aumento da taxa de juros.
- (B) a política fiscal expansionista, o aumento dos subsídios e a diminuição da taxa de juros.
- (C) o aumento do Investimento Direto Estrangeiro, a remessa de juros ao exterior e a política monetária expansionista.
- (D) a emissão de títulos públicos, a política monetária contracionista e o aumento de impostos.
- (E) o aumento de impostos, a política monetária contracionista e o aumento dos subsídios.

37

Em relação ao *equilíbrio em diferentes estruturas de mercado*, é correto afirmar que:

- (A) para uma firma que opere em concorrência perfeita, a condição para a maximização dos lucros, de preço igual ao custo médio, impõe lucros econômicos nulos ao produtor.
- (B) em concorrência monopolística, a condição de equilíbrio na qual o preço é igual ao custo marginal implica que o produtor usufruirá lucro econômico estritamente nulo.
- (C) no modelo de Cournot-Nash de oligopólio, as funções de reação das empresas são simétricas e, portanto, o lucro econômico a ser dividido é igual à metade do lucro de monopólio.
- (D) para um monopsonista, a curva de custo marginal apresenta inclinação positiva, de forma que o equilíbrio de mercado se dá no ponto em que o preço iguala o custo variável unitário.
- (E) como o preço de mercado, em uma situação de monopólio, encontra-se acima do custo marginal, o equilíbrio desse mercado não é Pareto-Ótimo.

38

No ano de 2009, a renda do Sr. Rozier aumentou de \$ 30.000 para \$ 45.000. Nesse ano, suas compras de livros aumentaram de 20 para 25.

A elasticidade-renda da demanda do Sr. Rozier para o consumo de livros é:

- (A) 0,25.
- (B) 0,50.
- (C) 1,00.
- (D) 2,00.
- (E) 4,00.

39

Analise os lançamentos no Balanço de Pagamentos de um país durante um ano.

Exportação de bens	152.994
Importação de bens	-127.647
Transferências Unilaterais Correntes	2.314
Viagens internacionais	-5.593
Investimento brasileiro direto	10.084
Investimento estrangeiro direto	25.948
Royalties e licenças	-2.078
Lucros e dividendos	-17.765

O saldo em transações correntes desse país é:

- (A) 2.225.
- (B) -5.106.
- (C) -2.792.
- (D) 1.535.
- (E) 8.414.

40

Com relação às características da *Lei de Responsabilidade Fiscal* analise as afirmativas a seguir:

- I. A despesa total com pessoal, em cada período de apuração e em cada ente da Federação, não pode ultrapassar 50% da receita corrente líquida.
- II. É vedada a realização de operação de crédito entre um ente da Federação e outro, inclusive suas entidades da administração indireta.
- III. A operação de crédito por antecipação de receita destina-se a atender insuficiência de caixa durante o exercício financeiro.

Assinale:

- (A) se somente as afirmativas I e II estiverem corretas.
- (B) se somente as afirmativas I e III estiverem corretas.
- (C) se somente a afirmativa II estiver correta.
- (D) se somente as afirmativas II e III estiverem corretas.
- (E) se todas as afirmativas estiverem corretas.

41

O conceito de *Deflator Implícito* do PIB relaciona:

- (A) o PNB Real com o PIB Real.
- (B) o PIB Nominal com o PIB Real.
- (C) o PNB Nominal com o PIB Nominal.
- (D) o PIL Nominal com o PIB Nominal.
- (E) o PNB Nominal com o PIB Real.

42

Um bem com valor de R\$ 28.000,00 tem vida útil de 7 anos. Usando o método de depreciação pela soma dos dígitos dos anos, com depreciação crescente, a depreciação acumulada ao final de 3 anos é:

- (A) R\$ 3.000,00.
- (B) R\$ 5.000,00.
- (C) R\$ 6.000,00.
- (D) R\$ 13.000,00.
- (E) R\$ 18.000,00.

43

Um monopolista apresenta uma função Custo Total tal que $CT(y) = 500y$ e uma função Receita Marginal igual a $Rmg = 500 - y^2 + 140y$. Em ambos os casos, y é a quantidade produzida.

A condição de maximização de lucros, para esse monopolista, é tal que a quantidade a ser produzida é:

- (A) 140.
- (B) 200.
- (C) 345.
- (D) 440.
- (E) 500.

44

A respeito dos projetos de lei relativos ao plano plurianual, às diretrizes orçamentárias, ao orçamento anual e aos créditos adicionais, é correto afirmar que:

- (A) é vedada a realização de operações de créditos que excedam o montante das despesas de capital.
- (B) é vedado o término de programas ou projetos de exercícios anteriores.
- (C) é vedada a concessão ou utilização de créditos.
- (D) é vedada a transferência de recursos e a concessão de empréstimos para outros entes da federação.
- (E) é vedado estabelecer normas de gestão financeira e patrimonial da administração direta e indireta.

45

As funções do governo são:

- X. alocativa;
- Y. distributiva;
- Z. estabilizadora.

Em relação a essas funções são feitas as afirmativas a seguir.

- I. Utiliza os instrumentos macroeconômicos para manter adequado o nível de utilização dos recursos produtivos, sem criar problemas inflacionários
- II. Deve contrabalançar os princípios da equidade e eficiência de forma a não criar incentivos perversos para os recipientes ou financiadores de políticas sociais.
- III. Estabelece incentivos para resolver problemas de ineficiência em determinados mercados microeconômicos.

Assinale a alternativa que apresenta a combinação correta entre as funções e as afirmativas.

- (A) X-I, Y-II e Z-III
- (B) X-III, Y-II e Z-I
- (C) X-I, Y-III e Z-II
- (D) X-II, Y-I e Z-I
- (E) X-III, Y-I e Z-II

46

A função preço marginal de reserva de um consumidor para o bem y é dada por $Pmg = 1000 - X^2 - 10X$, no qual X é a quantidade a ser consumida do bem y .

A função utilidade total para esse mesmo bem é dada por $UT = -X^3 / 3 + 45X^2 + 500X + 300$.

Assim, a condição de equilíbrio do consumidor, ou seja, a quantidade X a ser consumida do bem y pelo consumidor é:

- (A) 5.
- (B) 10.
- (C) 25.
- (D) 45.
- (E) 300.

47

A fabricação de um determinado suco tropical é composta de duas partes de goiaba (g), três partes de caju (c), uma parte de maracujá (m) e quatro partes de abacaxi (a).

Assim, a função de produção y que representa a produção desse suco é dada por:

- (A) $y = 2g + 3c + m + 4a$
- (B) $y = g/2 + c/3 + m + a/4$
- (C) $y = \max(2g, 3c, m, 4a)$
- (D) $y = \max(g/2, c/3, m, a/4)$
- (E) $y = \min(g/2, c/3, m, a/4)$

48

Com relação à classificação de bens como normais, inferiores, de Giffen, substitutos e complementares, analise as afirmativas a seguir.

- I. Para bens complementares a elasticidade-preço cruzada da demanda é negativa.
- II. Em bens de Giffens a demanda é infinitamente elástica e, portanto, um aumento de preços faz com que sua demanda permaneça constante, em vez de cair como em um bem normal.
- III. Para bens normais, um aumento no preço do produto eleva o excedente dos consumidores cuja área está abaixo da curva da demanda.

Assinale:

- (A) se somente a afirmativa I estiver correta.
- (B) se somente as afirmativas I e II estiverem corretas.
- (C) se somente as afirmativas I e III estiverem corretas.
- (D) se somente as afirmativas II e III estiverem corretas.
- (E) se todas as afirmativas estiverem corretas.

49

Com relação aos *conceitos de custos e rendimentos de escala*, analise as afirmativas a seguir.

- I. A função Custo Total: $CT(q) = 500q - q^2$ apresenta rendimentos crescentes de escala para $q < 500$.
- II. A função Custo Total: $CT(q) = 500q + 300$ apresenta rendimentos constantes de escala para $q > 0$.
- III. A função Custo Médio: $Cme = q^3 + q^2 + 10q$ apresenta rendimentos decrescentes de escala para $q > 0$.

Assinale:

- (A) se somente a afirmativa I estiver correta.
- (B) se somente as afirmativas I e II estiverem corretas.
- (C) se somente as afirmativas I e III estiverem corretas.
- (D) se somente as afirmativas II e III estiverem corretas.
- (E) se todas as afirmativas estiverem corretas.

50

A respeito dos conceitos de *dívida e déficit público e equilíbrio orçamentário*, é correto afirmar que:

- (A) uma política fiscal expansionista resulta em redução imediata do déficit público.
- (B) a apuração do resultado nominal deve acrescentar ao resultado primário os valores pagos e recebidos de juros junto ao sistema financeiro.
- (C) uma lei de orçamento equilibrado tem como efeito o aumento na taxa de juros de longo prazo.
- (D) as necessidades de financiamento do setor público contemplam os recursos para pagamento dos juros do conjunto da dívida externa.
- (E) as necessidades de financiamento do setor público são apuradas no nível federal, sendo de competência de estados e municípios a responsabilidade de manter equilibrado o déficit operacional.

51

Com relação aos *modelos de crescimento econômico*, analise as afirmativas a seguir.

- I. O modelo de Solow-Swan requer retornos constantes de escala para capital e trabalho em separado e retornos decrescentes para a função de produção conjunta.
- II. No modelo de Romer, os produtos marginais do capital e do trabalho são constantes.
- III. O modelo de Romer é um modelo de crescimento exógeno baseado no crescimento do fator de produção tecnologia.

Assinale:

- (A) se somente a afirmativa II estiver correta.
- (B) se somente as afirmativas I e II estiverem corretas.
- (C) se somente as afirmativas I e III estiverem corretas.
- (D) se somente as afirmativas II e III estiverem corretas.
- (E) se todas as afirmativas estiverem corretas.

52

Em um oligopólio com duas empresas a demanda é:

$$P = 20 - 2Q, \text{ na qual } Q = Q_1 + Q_2.$$

As funções de custo das empresas são:

$$C_1(Q_1) = 8 + 4Q_1 \text{ e } C_2(Q_2) = 6 + 6Q_2.$$

Assumindo que as empresas estejam em conluio e em equilíbrio, assinale a alternativa que indique a quantidade Q.

- (A) 2
- (B) 4
- (C) 6
- (D) 9
- (E) 20

53

Ricardo mostra-se indiferente entre cestas que contenham cinco livros e três revistas. Suas preferências não se alteram à medida que consome maior quantidade de qualquer uma das duas mercadorias.

As curvas de indiferença paralelas que descrevam as preferências de Ricardo por livros e revistas tem como características:

- (A) inclinação positiva 5/3.
- (B) inclinação constante 3/5.
- (C) inclinação negativa -5/8.
- (D) inclinação negativa -3/5.
- (E) inclinação positiva 3/5.

54

O preço de um livro (L) é \$ 40, enquanto o de uma revista (R) é \$ 10. Leibniz tem um orçamento (OR) de \$ 100.

A linha de restrição orçamentária de Leibniz que representa sua limitação orçamentária é:

- (A) $OR = 40L + 10R$
- (B) $OR = 4000L + 1000R$
- (C) $OR = (40L * 10R) / 100$
- (D) $OR = (40L * 10R) * 100$
- (E) $OR = 0,4L + 0,1R$

55

Com relação aos conceitos de inflação, suas causas e consequências, analise as afirmativas a seguir.

- I. Uma política fiscal contracionista para combate à inflação é mais eficiente no caso de uma inflação de demanda do que em uma inflação de custos.
- II. Uma política monetária expansionista para combate à inflação é mais eficiente do que uma política contracionista no caso de inflação inercial.
- III. Uma política fiscal contracionista para combate à inflação de custos tem como efeito uma diminuição no nível de atividade econômica.

Assinale:

- (A) se somente a afirmativa I estiver correta.
- (B) se somente as afirmativas I e III estiverem corretas.
- (C) se somente as afirmativas I e II estiverem corretas.
- (D) se somente as afirmativas II e III estiverem corretas.
- (E) se todas as afirmativas estiverem corretas.

56

O Tesouro Direto é um programa de venda de títulos a pessoas físicas desenvolvido pelo Tesouro Nacional, em parceria com a Companhia Brasileira de Liquidação e Custódia – CBLC.

(http://www.tesouro.fazenda.gov.br/tesouro_direto/conheca.asp).

Os títulos públicos negociados via Tesouro Direto permitiram a muitos pequenos investidores um planejamento direto de seus recursos financeiros.

Sobre a precificação dessa classe de ativos financeiros, é correto afirmar que:

- (A) a taxa de juros indicada para o cálculo do retorno da classe de títulos NTN-B é uma taxa nominal pré-fixada, com prêmio baseado na SELIC.
- (B) a taxa de juros indicada para o cálculo do retorno da classe de títulos LFT é uma taxa nominal pré-fixada, sem indexador.
- (C) a taxa de juros indicada para o cálculo do retorno da classe de títulos NTN-F é uma taxa real, com prêmio baseado no IPCA.
- (D) a taxa de juros indicada para o cálculo do retorno da classe de títulos NTN-C é uma taxa real, com prêmio baseado no IGP-M.
- (E) a taxa de juros indicada para o cálculo do retorno da classe de títulos NTN-B é uma taxa nominal, com prêmio baseado no IGP-M.

57

Um banco apresentou cinco propostas de plano de pagamento de uma dívida para o senhor Gauss:

Sabendo que a taxa de desconto do senhor Gauss é de 10% ao mês, juros compostos, assinale a alternativa que indique o plano de pagamento que represente o menor valor presente.

- (A) Um pagamento único de R\$ 20.000,00 imediatamente.
- (B) Um pagamento imediato de R\$ 10.000,00 e outro pagamento de R\$ 10.780,00 no prazo de um mês.
- (C) Um pagamento de R\$ 22.000,00 em um mês.
- (D) Pagamentos perpétuos mensais no valor de R\$ 2.000,00
- (E) Um pagamento, em dois meses, no valor de R\$ 23.716,00.

58

A empresa Bernoulli projeta a seguinte evolução patrimonial.

	1º mês	2º mês	3º mês	4º mês	5º mês
Ativo Circulante	154	210	255	300	455
Realizável de Longo Prazo	874	988	988	988	654
Imobilizado	214	214	314	314	355
Passivo Circulante	154	215	333	452	544
Exigível de Longo Prazo	988	1200	1354	1455	1455

O diretor financeiro quer projetar a necessidade de capital de giro e confia nos dados acima. A máxima necessidade de capital de giro dessa empresa no período projetado é:

- (A) 0
- (B) 152
- (C) 214
- (D) 535
- (E) 890

59

Em relação aos princípios tributários estabelecidos pela Constituição Federal, assinale a afirmativa **incorreta**.

- (A) O princípio do equilíbrio do orçamento estabelece que é vedada a realização de operações de créditos que excedam o montante das despesas de capital, ressalvadas as autorizadas mediante créditos suplementares ou especiais com finalidade precisa, aprovados pelo Poder Legislativo por maioria absoluta.
- (B) O princípio da publicidade orçamentária estabelece que o Poder Executivo publicará, até trinta dias após o encerramento de cada bimestre, relatório resumido da execução orçamentária.
- (C) O princípio da uniformidade de tributo federal em todo o território nacional estabelece que é vedado à União instituir tributo que não seja uniforme em todo o território nacional ou que implique distinção ou preferência em relação a um Estado, ao Distrito Federal ou a um Município, em detrimento de outro.
- (D) O princípio da capacidade contributiva estabelece que os impostos terão caráter pessoal e deverão ser neutros em relação à capacidade contributiva dos contribuintes, facultado à administração tributária identificar o patrimônio, os rendimentos e as atividades econômicas do contribuinte.
- (E) O princípio da legalidade tributária estabelece que sem prejuízo de outras garantias asseguradas ao contribuinte, é vedado à União, aos Estados, ao Distrito Federal e aos Municípios exigir ou aumentar tributo sem lei que o estabeleça.

60

Com relação ao Sistema Tributário e sua relação com a distribuição de renda, analise as afirmativas a seguir:

- I. O Brasil apresenta arrecadação tributária centrada em tributos indiretos, em que os mais pobres pagam proporcionalmente mais tributos em relação à sua renda do que os mais ricos.
- II. O Imposto de Renda (IR) não apresenta efeito sobre a distribuição de renda por ser um imposto neutro, que impacta pobres e ricos da mesma maneira.
- III. A política tributária concede tratamento privilegiado à renda de capital, com tabela regressiva para o Imposto de Renda de Pessoa Física e progressiva para renda de capital e, assim, tem efeito perverso sobre a distribuição de renda.

Assinale:

- (A) se somente a afirmativa I estiver correta.
- (B) se somente as afirmativas I e II estiverem corretas.
- (C) se somente as afirmativas I e III estiverem corretas.
- (D) se somente as afirmativas II e III estiverem corretas.
- (E) se todas as afirmativas estiverem corretas.

61

A respeito da precificação de ativos financeiros, incluindo-se derivativos, é correto afirmar que:

- (A) o vega e o teta de uma opção de compra significam, respectivamente, sensibilidade à variações na volatilidade e no tempo para o exercício.
- (B) a diferença entre opções européias e americanas é que, na segunda, as opções somente podem ser exercidas na data de exercício.
- (C) o delta e o rho de uma opção de compra significam, respectivamente, sensibilidade à variações no tempo para o exercício e da taxa de juros livre de risco.
- (D) o modelo de Black & Scholes é baseado na distribuição binomial, enquanto o modelo de precificação via árvores utiliza a distribuição lognormal.
- (E) no modelo de Black & Scholes um aumento na volatilidade aumenta o prêmio da opção de venda, enquanto diminui o prêmio da opção de compra.

62

Com relação à formação econômica do Brasil, analise as afirmativas a seguir.

- I. A primeira década do Império foi marcada por mudanças estruturais na economia, como a súbita disseminação do trabalho assalariado, resultante do fim da escravatura, e o reordenamento da inserção internacional do país.
- II. Os anos de 1900 a 1913 foram marcados por um crescimento acima de 4% ao ano, com aceleração da formação de capital na indústria e rápido crescimento das exportações de borracha.
- III. O início da década de 1930 foi marcado por um choque externo que afetou o balanço de pagamentos devido à queda de preços das exportações e à interrupção do influxo de investimento externo.

Assinale:

- (A) se somente a afirmativa III estiver correta.
- (B) se somente as afirmativas I e II estiverem corretas.
- (C) se somente as afirmativas I e III estiverem corretas.
- (D) se somente as afirmativas II e III estiverem corretas.
- (E) se todas as afirmativas estiverem corretas.

63

Com relação aos modelos de crescimento endógeno, analise as afirmativas a seguir.

- I. No modelo AK de crescimento endógeno os produtos médio e marginal do capital são constantes em relação a A e, assim, $f(k)/k = A$.
- II. No modelo de crescimento endógeno de Romer (1990), a taxa de crescimento e a taxa de lucro são determinadas simultaneamente.
- III. No modelo AK, a poupança constante e exógena e o nível de tecnologia fixo, são duas hipóteses.

Assinale:

- (A) se somente a afirmativa I estiver correta.
- (B) se somente as afirmativas I e II estiverem corretas.
- (C) se somente as afirmativas I e III estiverem corretas.
- (D) se somente as afirmativas II e III estiverem corretas.
- (E) se todas as afirmativas estiverem corretas.

64

A Lei de Responsabilidade Fiscal estabelece diversos mecanismos sobre transparência e fiscalização da gestão fiscal.

Com relação a esses mecanismos, assinale a afirmativa **incorreta**.

- (A) A prestação de contas da União conterà demonstrativos do Tesouro Nacional e das agências financeiras oficiais de fomento, incluído o Banco Nacional de Desenvolvimento Econômico e Social.
- (B) As contas apresentadas pelo Chefe do Poder Executivo ficarão disponíveis, durante todo o exercício, no respectivo Poder Legislativo e no órgão técnico responsável pela sua elaboração.
- (C) A transparência será assegurada também mediante incentivo à participação popular e realização de audiências públicas, durante os processos de elaboração e de discussão dos planos, lei de diretrizes orçamentárias e orçamentos.
- (D) Os Tribunais de Contas, ao constatarem que o montante da despesa total com educação e saúde ultrapassou 90% (noventa por cento) do limite, deverão alertar os Poderes.
- (E) O Poder Legislativo e o sistema de controle interno de cada Poder e do Ministério Público fiscalizarão o cumprimento dos limites e condições para realização de operações de crédito e inscrição em Restos a Pagar.

65

Uma campanha de *marketing* bem sucedida consegue afetar as preferências do consumidor, alterando dessa forma a demanda.

Assim, os deslocamentos e o resultado final de equilíbrio de mercado são dados por:

- (A) a curva de demanda se desloca para a direita, o preço aumenta e a quantidade de equilíbrio aumenta.
- (B) a curva de demanda se desloca para a esquerda, o preço diminui e a quantidade de equilíbrio diminui.
- (C) a curva de demanda se desloca para a direita, o preço diminui e a quantidade de equilíbrio aumenta.
- (D) a curva de demanda se desloca para a direita, o preço aumenta e a quantidade de equilíbrio diminui.
- (E) a curva de demanda se desloca para a esquerda, o preço aumenta e a quantidade de equilíbrio aumenta.

66

Uma economia fechada possui as seguintes características:

Consumo: $C = 200 + 0,6Y$, sendo $Y =$ Renda Nacional

Investimento: $I = 400$

Gastos do Governo: $G = 200$

A renda nacional de equilíbrio dessa economia é igual a:

- (A) 800
- (B) 1280
- (C) 1333
- (D) 2000
- (E) 3200

67

Com relação ao Sistema de Contas Nacionais do Brasil, analise as afirmativas a seguir.

- I. O Sistema de Contas Nacionais apresenta, por setor institucional, as contas correntes e a conta de acumulação, primeiro segmento das contas financeiras.
- II. A visão de conjunto da economia é fornecida pelas Contas Econômicas Integradas – CEI.
- III. A conta de distribuição primária da renda subdivide-se em duas subcontas: o valor adicionado entre os fatores de produção trabalho e capital e a parte restante da distribuição operacional da renda.

Assinale:

- (A) se somente a afirmativa I estiver correta.
- (B) se somente as afirmativas I e II estiverem corretas.
- (C) se somente as afirmativas I e III estiverem corretas.
- (D) se somente as afirmativas II e III estiverem corretas.
- (E) se todas as afirmativas estiverem corretas.

68

Em um mercado que se encaixa na estrutura de mercado de concorrência perfeita, a função de custo total (CT) de cada empresa (simétrica) é dada por $CT = 20q^2 - 100q + 1000$, na qual q é a quantidade produzida.

A curva de demanda é dada pela função $P = 500 - 10Q$.

Assinale a alternativa que indique a quantidade que cada firma vai produzir.

- (A) 12
- (B) 60
- (C) 124
- (D) 380
- (E) 600

69

Com relação ao equilíbrio da firma sob diferentes estruturas de mercado, analise as afirmativas a seguir.

- I. No modelo de Cournot as firmas estabelecem sua decisão de quantidade de produção simultaneamente.
- II. Sob monopólio, deslocamentos da demanda não mudam a condição de equilíbrio da firma, pois $R_{me} = P$.
- III. Em concorrência monopolística os bens não são inteiramente substitutos.

Assinale:

- (A) se somente as afirmativas I e II estiverem corretas.
- (B) se somente as afirmativas I e III estiverem corretas.
- (C) se somente a afirmativa I estiver correta.
- (D) se somente a afirmativa III estiver correta.
- (E) se todas as afirmativas estiverem corretas.

70

A respeito do *balanço de pagamentos e relações* com o resto do mundo, analise as afirmativas a seguir.

- I. Uma remessa de lucro de uma empresa estrangeira é lançada como saída de moeda na Balança de Serviços e Rendas, que é parte da conta de Transações Correntes.
- II. Em um regime de câmbio flutuante, o déficit no Balanço de Pagamentos resulta em valorização da moeda local.
- III. Um aumento na taxa de juros internacional desvaloriza a moeda local pela saída de capitais de curto prazo.

Assinale:

- (A) se somente a afirmativa I estiver correta.
- (B) se somente as afirmativas I e III estiverem corretas.
- (C) se somente as afirmativas I e II estiverem corretas.
- (D) se somente as afirmativas II e III estiverem corretas.
- (E) se todas as afirmativas estiverem corretas.

Realização:



F U N D A Ç Ã O
GETULIO VARGAS

FGV PROJETOS